

南山學園教育基金會 2024 南山盃學藝競賽示例題

【詞語應用】

1. 「意興闌珊」之於「興味索然」，如同：

- (A)「跬步千里」之於「駑馬十駕」
- (B)「嗤之以鼻」之於「另眼相看」
- (C)「當仁不讓」之於「置身事外」
- (D)「雷霆萬鈞」之於「縛雞之力」。

答案：A

2. 下列選項「 」中的字，何組詞性前後相同？

- (A)勤奮不「懈」／無「懈」可擊
- (B)「苦」練成功／救「苦」濟貧
- (C)竭「盡」所能／取之不「盡」
- (D)加緊「練習」／完成「練習」簿。

答案：C

3. 下列文句，何者沒有語病且文意通順、清楚？

- (A)魚肚白升起，滿山籠罩在朦朧的暮靄中，令人陶醉於此美景
- (B)演員們演戲時能言善道，但提及緋聞事件，則紛紛支吾其詞
- (C)他一再挑釁同學，製造爭端，這樣的行為真值得給予嚴厲的懲罰
- (D)關於魔獸加入球隊，記者在現場為您轉播來自路透社的第一手獨家新聞報導。

答案：B

【閱讀理解】

4. 「沒有哪一個人生故事是單獨存在的。有時候，故事與故事會在轉角相遇；有時候，一個故事會疊上另一個故事，像河床底下的石頭層層疊起。」這句話的涵義，與下列何者最接近？

(A)故事鋪陳了生活中的喜怒哀樂，有了故事，心情才有宣洩的出口
(B)人與人之間是交織的網絡，無論相逢與否，都存在不同程度的關連
(C)人生是由一連串的故事組合而成，認真生活，就會是一本精彩的小說
(D)沒有一個人能單獨生活，珍惜與朋友相遇的機會，把它化成未來的助力。

答案：B

5. 「卻攔不住我／向一個出海口／奔騰而去的決心」此句所展現精神與下列何者最為相近？

(A)雖千萬人，吾往矣
(B)堅正自守，泰然自若
(C)言必行，行必果
(D)逝者如斯夫，不捨晝夜。

答案：A

6. 「有個人在山巔的鷹巢抓到了一隻幼鷹，他把幼鷹帶回家，養在雞籠，和雞一起生活。這隻鷹漸漸長大，羽翼豐滿了，主人想把牠訓練成獵鷹。可是由於終日和雞混在一起，牠已經變得和雞完全一樣，根本沒有飛的願望了。主人試了各種辦法，都毫無效果，最後把牠帶到山頂上，一把將牠扔了出去。這隻鷹像塊石頭似的，直掉下去，慌亂之中牠拚命的撲打翅膀，就這樣，牠終於飛了起來！」這則寓言說明了什麼道理？

(A)不到黃河心不死
(B)麻雀搖身變鳳凰

(C)知其不可而為之

(D)置之死地而後生。

答案：D



觀展資訊：2020年10月23日~10月26日 每日10:00-18:00

指導單位：臺中市政府·臺中市商業會

主辦單位：臺中市工程技術顧問商業同業公會·臺中市室內設計裝修商業同業公會·博思達國際有限公司

執行單位：博思達國際有限公司 洽詢專線：(04)2451-3978 官方網站：
www.bosstar.com.tw

協辦單位：臺中市不動產開發商業同業公會·臺中市大臺中不動產開發商業同業公會·臺中市建築經營協會·臺中市景觀工程商業同業公會·臺中市廚具商業同業公會·臺中市直轄市建築材料商業同業公會·臺灣綠建材產業發展協會·臺灣傢飾同業協進會。

7. 根據上述資訊，以下有關「TAIDM 臺灣國際建築室內設計建材展」的敘述，何者說明最正確？

(A)臺中市政府是此次活動的執行規畫單位

(B)地點在臺北國際展覽館，鄰近高鐵站及火車站

(C)活動為期一週，每日上午十時至下午八時可入場

(D)對活動有任何疑問，可依專線電話聯繫博思達洽詢。

答案：D

【閱讀題組】

雅舍 梁實秋

「雅舍」最宜月夜——地勢較高，得月較先。看山頭吐月，紅盤乍湧，一霎間，清光四射，天空皎潔，四野無聲，微聞犬吠，坐客無不悄然！舍前有兩株梨樹，等到月升中天，清光從樹間篩灑而下，地上陰影斑斕，此時尤為幽絕。直到興闌人散，歸房就寢，月光仍然逼進窗來，助我淒涼。細雨濛濛之際，「雅舍」亦復有趣。推窗展望，儼然米氏章法，若雲若霧，一片瀰漫。但若大雨滂沱，我就又惶悚不安了，屋頂溼印到處都有，起初如碗大，俄而擴大如盆，繼則滴水乃不絕，終乃屋頂灰泥突然崩裂，如奇葩初綻，素然一聲而泥水下注，此刻滿室狼藉，搶救無及。此種經驗，已數見不鮮。「雅舍」之陳設，只當得簡樸二字，但灑掃拂拭，不使有纖塵。我非顯要，故名公巨卿之照片不得入我室；我非牙醫，故無博士文憑張掛壁間；我不業理髮，故絲織西湖十景以及電影明星之照片亦均不能張我四壁。我有一几一椅一榻，酣睡寫讀，均已有著，我亦不復他求。

8. 據上文，下列何者可看出「雅舍」的破陋？

- (A)看山頭吐月，紅盤乍湧，一霎間，清光四射，天空皎潔，四野無聲，微聞犬吠
- (B)直到興闌人散，歸房就寢，月光仍然逼進窗來，助我淒涼
- (C)屋頂溼印到處都有，起初如碗大，俄而擴大如盆，繼則滴水乃不絕
- (D)「雅舍」之陳設，只當得簡樸二字，但灑掃拂拭，不使有纖塵。

答案：C

9. 根據文章，下列關於雅舍的敘述，何者正確？

- (A)雅舍的屋頂有個破洞，所以容易欣賞月亮
- (B)作者喜歡在雅舍中欣賞雨景，不論是細雨或是滂沱大雨
- (C)雅舍簡樸，家具只有寥寥數張，但是作者已然滿足
- (D)因為雅舍簡陋，作者喜歡在牆壁上懸掛書畫用以展現自己的品味。

答案：C

10. 為什麼作者在文末說「我亦不復他求」？

- (A)作者因為清貧，故而無顏向外索求
- (B)作者認為人要知足，能有房屋居住就已經相當不錯了

(C)作者認為房屋破漏的修補才是首要，其餘尚可忍受

(D)酣睡寫讀已然能滿足生活，故而無須要求其他。

答案：D

【字音字形辨別】

11. 下列「 」中的注音寫成國字後，何組字形相同？

(A)大雨「ㄉㄤ」沓／氣勢「ㄉㄤ」礴

(B)孤「ㄉㄤ」的小島／「ㄉㄤ」瓏有致

(C)閃「ㄉㄤ」其辭／眾口「ㄉㄤ」金

(D)一言以「ㄉㄤ」之／烏雲「ㄉㄤ」日。

答案：D

12. 下列選項「 」中的字，何組讀音相同？

(A)三「更」畫舫／「更」上層樓

(B)天「降」大任／伏虎「降」龍

(C)「濟」南風光／人才「濟」濟

(D)「屏」風九疊／「屏」氣凝神。

答案：C

13. 下列文句，何者用字完全正確？

(A)經過幾年的改建，這個衰敗的古鎮面貌煥然一新

(B)學習要抓住基本知識，不能好高騖遠，而乎略基本的東西

(C)甫上映的科幻電影運用了卓越特效，呈現出振撼人心的畫面

(D)百貨公司兌換贈品手機的消息一出，貪小便宜的人蜂湧而至。

答案：A

【修辭應用】

14. 「生命彷彿被聖潔之光掃描除塵一遍」一句使用了轉化修辭技巧，下列何者也使用了轉化修辭技巧？

- (A)一把綠色小傘是一頂荷蓋
- (B)具體而微地把整個民族、整塊土地的生命濃縮近一句呼喊
- (C)我那時真是聰明過分，總覺得他說話不大漂亮，非自己插嘴不可
- (D)創業的人都會自然而然的想到上天，而敗家的人卻無時不想到自己。

答案：B

15. 「娘（涼）什麼！老子都不老子呀！」句中的「涼」諧音雙關「娘」，除了指天氣涼，也指母親。下列店家的名稱，何者並未使用同樣的手法？
- (A)無蟹可擊——螃蟹店
- (B)高等髮院——美髮店
- (C)機不可失——手機店
- (D)冰冰有禮——剉冰店。

答案：C

16. 「田野間散發著剛犁出的新泥被細細攪碎的氣味，果園裡闖出來柑桔的清香」這段文字運用了嗅覺摹寫技巧，下列何者與之相同？
- (A)陽光晒在棉被上，溼冷的霉味很快被蒸發掉
- (B)家家戶戶睡覺蓋的，通常是祖傳的老棉被，又硬又重
- (C)經過師傅翻彈過的棉被，質地蓬鬆多了，蓋在身上的重量變輕卻較前暖和
- (D)顏色會從原先的深褐色變成淺淺的乳黃，卻永遠也無法變回剛買時那種雪柔的白。

答案：A

【語文常識】

17. 巴琪在尋找海賊王羅傑留下的寶藏，他從海賊日記發現線索，羅傑將標示寶藏的航海圖留給了兒子。但日記裡沒有標點符號的句子讓他摸不著頭緒。請問以下何種寫法代表航海圖在兒子的手上？
- (A)羅傑有一子，航海圖給子女、婿、外人，不得爭奪。

(B)羅傑有一子，航海圖給子女婿，外人不得爭奪。

(C)羅傑有一子，航海圖給予。女婿、外人，不得爭奪。

(D)羅傑有一子，航海圖給子女、婿，外人不得爭奪。

答案：C

18. 歷來有許多詩作，往往透過相關行為事跡來歌詠主角。下列四首作品，何者的主角不是李白？

(A)「酒入豪腸／七分釀成了月光／剩下的三分嘯成劍氣／繡口一吐就半個盛唐」

(B)「去吧！提起你的酒壺／挾起你的詩冊，詩冊中的清風和明月／邊走邊飲去遊你的三江五湖」

(C)「據說 你喝一斗酒／可以寫詩百篇？在長安市的酒家沉沉睡去／皇帝來喚 你也不應」

(D) 千年前為秋風所破的茅屋／剩日下的竹影搖曳／我小立在那新築新修的草堂／遙想當年你如何扶杖嘆息。

答案：D

19. 下列新聞「 」中的俗諺、歇後語，何者使用正確？

(A)近日乾旱，「西北雨落袂過田岸」，水庫蓄水告急，影響民生用水

(B)他說得口沫橫飛，但我可是「鴨子聽雷」，只能一旁陪笑

(C)老師已經在群組公告這次考試重點，「閻王出告示」，大家不可掉以輕心

(D)目前颱風正快速地接近台灣，大家要及早做好防災準備，「日頭赤炎炎，隨人顧性命」，避免產生傷亡。

答案：B

【寫作測驗】

題目：「最難忘的一堂課」

*說明：

學校裡多采多姿的課程，有的是戶外教學，有的是分組活動，有的是動態操作，有的是靜態聽講，你覺得哪一堂課印象最深刻？帶給你什麼回憶？你學習到什麼？請回憶你最難忘的學習和記憶，記錄你的所見所聞，以「最難忘的一堂課」為題，寫出一篇涵蓋下列條件的文章：

- 一、寫下難忘的一堂課。
- 二、描寫上課的經過，老師用什麼方法引導，同學的反應如何？。
- 三、這堂課帶給你什麼經驗或是有趣的回憶。

南山學園教育基金會 2024 南山盃學藝競賽示例題

【閱讀能力測驗】本測驗全為四選一之選擇題

一、詞彙和結構

(1~2)

1. Allen likes to _____ all kinds of toy cars. He has about 200 toy cars in the box.
(A) enjoy (B) collect (C) boil (D) mark
2. _____ always a lot of rain in Keelung, so people there always bring umbrellas with them.
(A) It is (B) We have (C) There are (D) They are

答案：B、C

二、段落填空

(3~7)

(In a zoo)

Angela : Wow, there are cool animals here.

Henry : Look! There are sheep over there.

Angela : Sheep are cute. What about the animals next to them? 3

Henry : They are zebras.

Angela : Are they and horses the same?

Henry : No, they are not. 4


Angela : Look! Those beautiful birds are flying 5 the lake.

Henry : Those are Chinese bulbuls. They build houses in the trees near the lake.

Angela : 6 the little bird flying between the two Chinese bulbuls?

Henry : It's a sparrow. Sparrows are common in Taiwan. You can see them in many 7 in Taiwan.

Angela : I see.

 Chinese bulbul 白頭翁 build 建造 sparrow 麻雀 common 普遍的

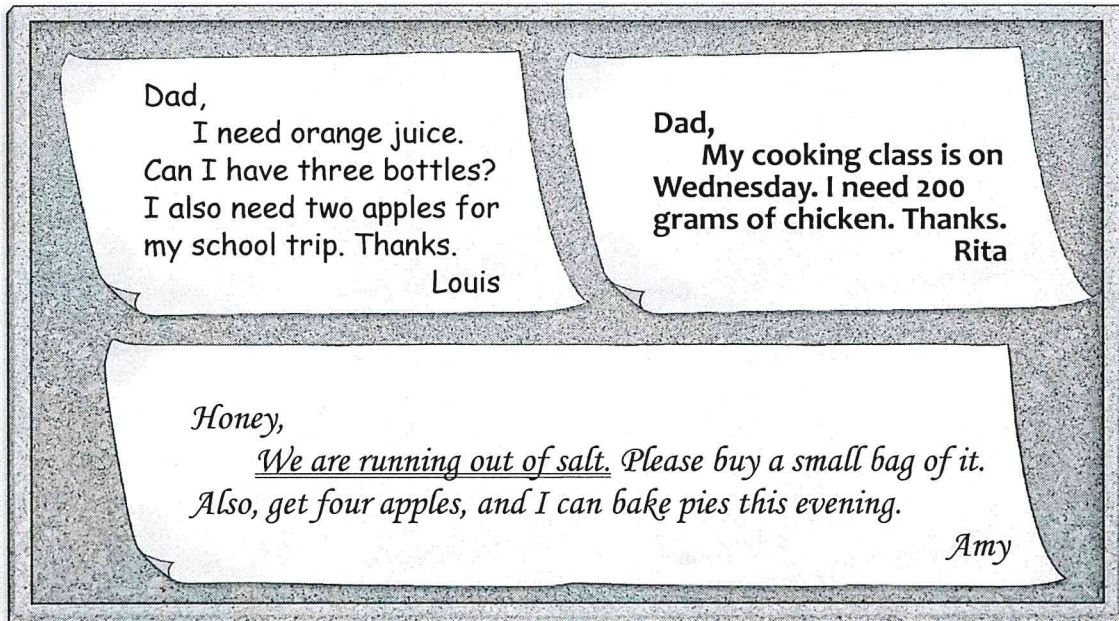
3. (A) Is it a monkey? (B) How old are they? (C) What are they? (D) Are they zebras?
4. (A) I am their sister. (B) They are from Taiwan. (C) He is five years old. (D) They are different.
5. (A) between (B) around (C) in (D) from
6. (A) What about (B) Where is (C) What (D) How's
7. (A) sofas (B) places (C) beds (D) blankets

答案：C、D、B、A、B

三、閱讀理解

(8~10)

Mr. Stone is at the market. His family needs some food. Here are their notes.



market 市場 note 便條 trip 旅行 gram 公克 chicken 雞肉

8. How much juice does Louis want?
(A) Three bottles. (B) A small bottle. (C) One bottle. (D) 200 grams.
9. Which is true?
(A) Rita needs two bottles of milk. (B) Louis needs two apples for his school trip.
(C) Mrs. Stone wants some bananas for her pies. (D) Mr. Stone has a cooking class on Wednesday.
10. What does "We are running out of salt." mean?
(A) They have a lot of salt at home. (B) They have a little salt at home.
(C) They have no salt at home. (D) They have some salt at home.

答案：A、B、C

【寫作能力測驗】

11. Those _____
(and fish. / the / tomatoes / students' / are) (重組句子，並以完整句子填答)
12. My brother eats a hamburger for lunch every day. (將畫線部分改為 **yesterday**，並做適當變化)

答案：Those are the students' tomatoes and fish.
My brother ate a hamburger for lunch yesterday.

南山學園教育基金會 2024 南山盃學藝競賽示例題

【數與量】

1. 計算 $929 + (1949 - 928) =$ _____ 。

答案：1950

2. 計算 $99 \div 2 + 1 \div 2 =$ _____ 。

答案：50

3. 計算 $9 \div (6.8 - 2.3) \times 57 =$ _____ 。

答案：114

4. 計算 $\frac{1998}{2023} \times 2022 + \frac{1998}{2023} \times 1 =$ _____ 。

答案：1998

5. 計算 24 和 30 的最小公倍數為 _____ 。

答案：120

6. 媽媽買了一個重 $15\frac{1}{3}$ 公斤的西瓜，全家人第一天吃了 $\frac{3}{8}$ ，第二天吃了剩下的 $\frac{2}{5}$ ，則第二天吃了 _____ 公斤的西瓜。

答案： $\frac{23}{6}$ 公斤

【幾何】

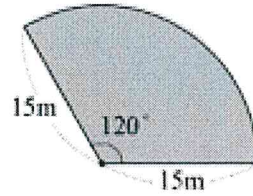
7. 有一個長 25 公尺、面積 550 平方公尺的長方形，則它的周長是 _____ 公尺。

答案：94 公尺

8. 在一張比例尺 1 : 350 的公園地圖中，有一個正方形的迷宮，邊長是 6 公分，則迷宮的實際面積是 _____ 平方公尺。

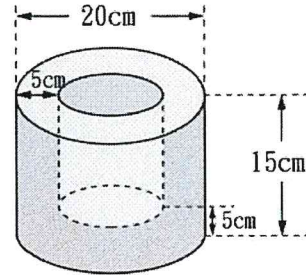
答案：441 平方公尺

9. 如右圖是一扇形，則它的周長是 _____ 公尺。
(圓周率請以 3 計算)



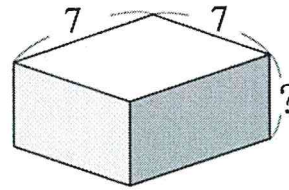
答案：60 公尺

10. 如右圖是一空心無蓋的圓柱容器，則此圓柱容器實際的體積是 _____ 立方公分。(圓周率請以 3 計算)



答案：3750 立方公分

11. 如右圖，若長方體的表面積是 182，則「？」邊的長度是 _____。



答案：3

【代數】

12. 有六位同學參加數學競試，其中四人的平均分數是 94 分，另外兩人的平均分數是 82 分，則這六人的平均分數是 _____ 分。

答案：90 分

13. 小南買了一張長 72 公分，寬 30 公分的長方形壁報紙，想要裁成數個大小相同的正方形紙張，且壁報紙必須全部用完沒有剩餘，則最少可以裁成 _____ 個正方形。

答案：60 個

14. 元氣超商買進每盒 80 元，且每盒 12 個裝的雞蛋 15 盒，運送途中破了 11 個，其餘每個賣 8 元，若全部賣出，則此超商賺或賠 _____ 元。

答案：賺 152 元

15. 原本在教室裡的學生有 $\frac{4}{9}$ 是女生，後來有 12 位男生走進教室，這時候教室裡男生的人數恰好是女生人數的 2 倍；則最後教室裡總共有 _____ 位學生。


答案：48 位

【數的規律】

16. 如下圖是由火柴棒所組成的正方形，若以此規律，則要組成圖九

需要 _____ 根火柴棒。

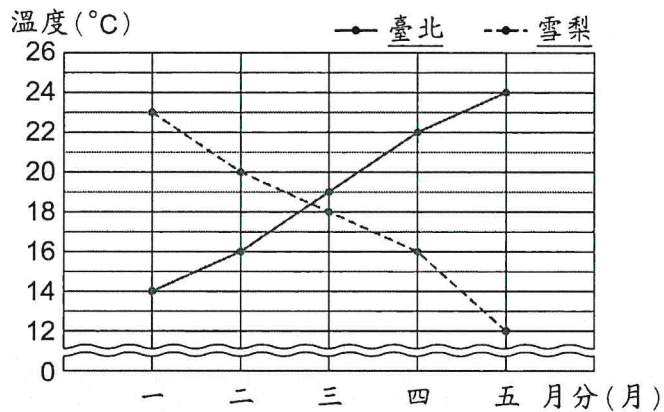
答案：28 根



【統計與機率】

17. 下圖為台北和雪梨的一~五月的平均溫度統計表，則某月溫差相差

最多是 _____ °C。



臺北與雪梨一月~五月的平均溫度折線圖

答案：12°C

18. 有一大盒子裝有 8 顆紅球、11 顆藍球和 6 顆綠球，若每顆球被抽到的機會相同，則從盒子中抽出 1 球是紅球的機率是 _____。

答案： $\frac{8}{25}$